

28. LISTOPADU



1. TŘÍDA

28.11.

ČTENÍ - LIST (ZOO)

ZAČÍNÁME: STR. 68

,

BYLO ZA DOMÁCÍ ÚKOL, PŘEČTĚTE SI A VYPRÁVĚJTE, CO
JSTE ČETLI.

LIST 27

KOTĚ A ŠTĚNĚ



KOTĚ LÍZA A ŠTĚNĚ MÍŠA JSOU KAMARÁDI.
ČASTO BĚHAJÍ SPOLU PO ZAHRADĚ.
VESELE SKÁČOU A HONÍ SE.
MÍŠA NĚKDY BĚŽÍ TAK RYCHLE, AŽ DĚLÁ KOTRMELCE.

KDYŽ CHCE CHYTIT LÍZU ZA OCÁSEK, KOTĚ
SE JEN MIHNE A JE NA STROMĚ.
MÍŠA PAK HAFÁ. LÉZT PO STROMECH NEUMÍ.

JINDY SE LÍZA MÍŠOVI SCHOVÁ
A ON JI HLEDÁ PO CELÉ ZAHRADĚ.
VEČER SE OBA STULÍ DO KOŠÍKU.
RÁNO BUDOU ZASE SPOLU DOVÁDĚT.

Hrajeme si - 43

OBTAHNI PRVNÍ PÍSMENKO A POKRAČUJ DO KONCE ŘÁDKU.

PÍŠEŠ NA KRÁSU, NE NA RYCHLOST.



OPIŠ.

A A

P P

Z Z

S S

K K

L L

M M

O O

NA LISTU V OBÁLCE, NA DRUHÉ STRANĚ MATEMATIKA.
POKUD ZBYDE ČAS, MŮŽETE ČÍST. DĚTI SI ORAZÍTKUJÍ.

NAĎA	SLŮŇÁTKO	HÁĎATA
LÁĎA	MÁŇA	MLÁĎATA
VLÁĎA	TÁŇA	PIVOŇKA
BĚĎA	ZDEŇKA	JABLOŇ
PĚĎA	MĚĎA	TŘEŠEŇ
KÁĎA	POUŤ	TAŤKA
VRÁĎA	POUŠŤ	LAŤKA
SVÁĎA	DĚŠŤ	ZBRAŇ
KOŠŤA	STRÁŇ	ZAKUŇKÁ
SOŇA	PIŠŤALKA	ĎÁBLÍK

MŮŽETE ZAČÍT ČÍST, DOKONČÍ, AŽ SE MNOU.
LIST 28 **JEDEME DO ZOO**

KUBA DNES VESELE HOPSÁ. ANIČKA SE DIVÍ:
„CO SE DĚJE?“
KUBA RADOSTNĚ KŘIČÍ: „JEDEME DO ZOO!
JE TAM MOC ZVÍŘÁTEK!“
ANDULKA TO VÍ, VŽDYŤ TAM UŽ BYLA.
ALE UŽ SE TAKÉ TĚŠÍ.



DĚTI POZORUJÍ LVY V KLECI. LVI ODPOČÍVAJÍ,
LENOŠÍ SI NA SLUNCI.
JEDEN STARÝ LEV ZVEDNE POMALU HLAVU
A STRAŠNĚ ZAŘVE.
DĚTI SE LEKLY A ÁJA NAJEDNOU ZMIZELA.
„KDE JE ANIČKA?“ DIVÍ SE KUBA.
A UŽ JI VIDÍ.
ANIČKA SE DÍVÁ RADĚJI NA OPICE.

LIST 29

JEDNA OPICE KOUŠE KUS BANÁNU.
JINÁ SE HOUPÁ A DALŠÍ DVĚ VOZÍ
MALÉ OPIČKY NA ZÁDECH A NA BŘIŠE.
JE TAM VESELO. OPIČKY LOUDÍ,
MAJÍ CHUŤ NA NĚCO DOBRÉHO.
ANIČKA VÍ, ŽE JE KRMIT NESMÍ.
JE TO ZAKÁZÁNO.



„PODÍVÁME SE JEŠTĚ NA PRASÁTKA,“
ŽADONÍ ANIČKA.
A DĚTI UŽ PÁDÍ K VÝBĚHU
DIVOKÝCH PRASAT.
V OHRADĚ BĚHAJÍ MALÁ PRUHOVANÁ
SELÁTKA. ANIČKA JE OBDIVUJE.

KUBA SI ČTE, CO JE NAPSÁNO NA VELIKÉ
TABULI: POZOR, KOUŠE!

„POZOR, KOUŠE?“ LEKLA SE ANDULKA.
A UŽ SE JÍ TADY NELÍBÍ.

„STEJNĚ TO TU MOC NEVONÍ.“ ZVEDLA NOSÍK
A VRÁTILA SE K OPIČKÁM.

Matematika - str. 41:

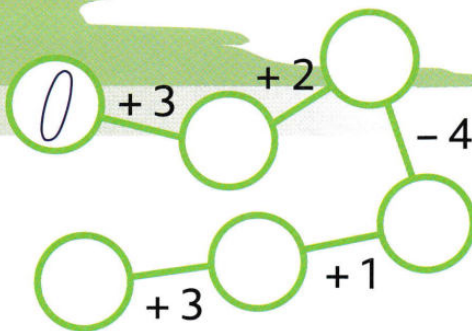
0 1 2 3 4 5 - = < > +

POSLOUCHEJ PANÍ ASISTENTKU, CO MÁŠ DĚLAT A POKUS SE VYŘEŠIT SÁM/SÁMA.



CO UŽ UMÍM

1 DOPLŇ ŘADY A POKRAČUJ. POČÍTEJ.

0 1 2
5 4 3



2 VYŘEŠ SLOVNÍ ÚLOHU.

Ota maluje    . Míla maluje  .

Kdo maluje více perníčků?

maluje více perníčků.

3 KTERÉ ČÍSLO CHYBÍ?

5 4 3 0 2 | 2 3 0 1 4 | 3 1 5 0 2

Matematika - str. 41:

0 1 2 3 4 5

= < >

4

DOPLŇ ČÍSLA.

$3 = 0 + \underline{\quad}$

$5 = 4 + \underline{\quad}$

$3 - \underline{\quad} = 0$

$4 - \underline{\quad} = 1$

$2 = 1 + \underline{\quad}$

$4 = 2 + \underline{\quad}$

$5 - \underline{\quad} = 1$

$3 - \underline{\quad} = 1$

$1 = 0 + \underline{\quad}$

$4 = 1 + \underline{\quad}$

$5 - \underline{\quad} = 5$

$5 - \underline{\quad} = 2$

$5 = 3 + \underline{\quad}$

$3 = 1 + \underline{\quad}$

$4 - \underline{\quad} = 1$

$5 - \underline{\quad} = 1$

5

DOPLŇ >, <, =.

$1 \square 2$

$5 \square 2$

$0 \square 2$

$1 \square 4$

$2 \square 2$

$2 \square 3$

$2 \square 3$

$4 \square 3$

$3 \square 5$

$4 \square 3$

$0 \square 4$

$4 \square 4$

$0 \square 5$

$2 \square 1$

$5 \square 4$

$3 \square 4$

$0 \square 0$

$1 \square 4$

$5 \square 4$

$0 \square 1$

procvičovací kód: 672 041









LIST: VÍŠ, JAK BYS SPOČÍTAL?

0 1 2 3 4 5


V AUTOBUSE BYLO

+ PŘISTOUIPILO DÁLE JELO

DO CÍLE DOJELO

<div style="border: 1px solid black; padding: 2px; width: 30px; margin: 0 auto;">1</div> 	$+4$ →	<div style="border: 1px solid black; padding: 2px; width: 30px; margin: 0 auto;">5</div> 	$+0$ →	<div style="border: 1px solid black; padding: 2px; width: 30px; margin: 0 auto;">5</div> 
$1 + 4 + 0 = \square$			$2 + 1 + 1 = \square$	
$1 + 0 + 3 = \square$			$3 + 2 + 0 = \square$	
<div style="border: 1px solid black; padding: 2px; width: 30px; margin: 0 auto;">5</div> 	-0 →	<div style="border: 1px solid black; padding: 2px; width: 30px; margin: 0 auto;">□</div> 	-1 →	<div style="border: 1px solid black; padding: 2px; width: 30px; margin: 0 auto;">□</div> 
$5 - 0 - 1 = \square$			$5 - 3 - 1 = \square$	
$4 - 2 - 0 = \square$			$5 - 4 - 1 = \square$	

LIST:



$1 + 4 - 5 = \square$ $2 + 3 - 4 = \square$

$2 + 2 - 1 = \square$ $3 + 1 - 2 = \square$

$5 + 0 - 3 = \square$ $2 + 1 - 2 = \square$

LIST:

POROVNEJ

SPOČÍTEJ SPOČÍTEJ

$3 + 2$	$5 - 3$	$5 - 0$	$3 + 2$
$2 + 2$	$5 - 1$	$3 - 1$	$0 + 4$

POROVNEJ

SPOČÍTEJ SPOČÍTEJ

$3 + 2$	$>$	$5 - 3$
---------	-----	---------

5

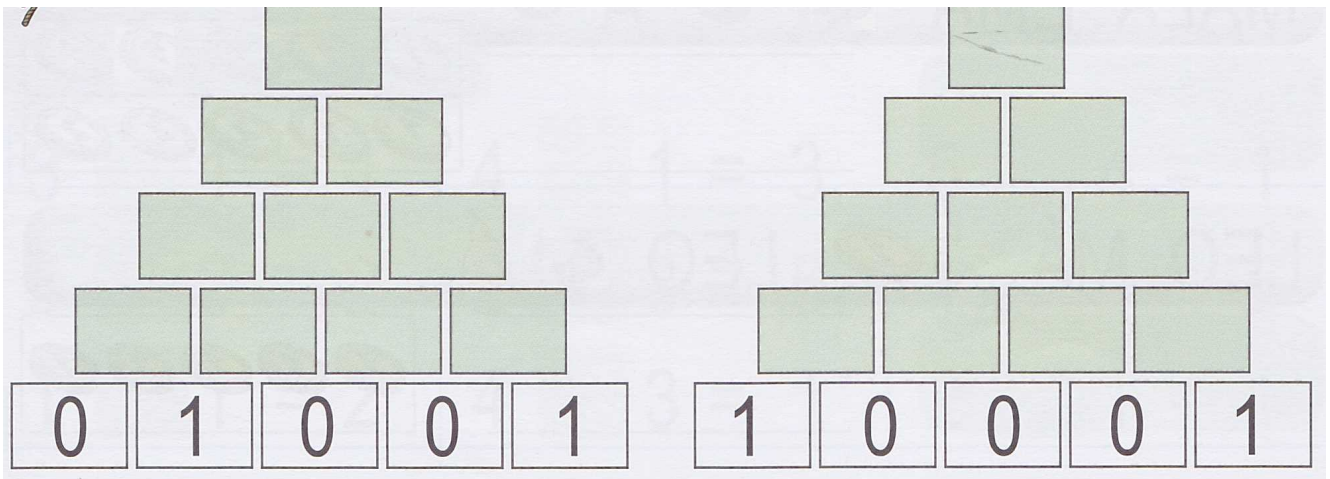
2

LIST: VYBARVI SPRÁVNÝ VÝSLEDEK

$3 + 2$	<input type="checkbox"/>	5	$3 - 0$	<input type="checkbox"/>	5	$1 + 1$	<input type="checkbox"/>	2
	<input type="checkbox"/>	1		<input type="checkbox"/>	2		<input type="checkbox"/>	0
	<input type="checkbox"/>	3		<input type="checkbox"/>	3		<input type="checkbox"/>	1
$2 + 1$	<input type="checkbox"/>	1	$1 + 3$	<input type="checkbox"/>	1	$5 - 4$	<input type="checkbox"/>	5
	<input type="checkbox"/>	4		<input type="checkbox"/>	4		<input type="checkbox"/>	2
	<input type="checkbox"/>	3		<input type="checkbox"/>	5		<input type="checkbox"/>	1
$4 + 1$	<input type="checkbox"/>	5	$2 - 1$	<input type="checkbox"/>	1	$1 + 4$	<input type="checkbox"/>	5
	<input type="checkbox"/>	4		<input type="checkbox"/>	4		<input type="checkbox"/>	1
	<input type="checkbox"/>	2		<input type="checkbox"/>	3		<input type="checkbox"/>	4

LIST: PYRAMIDU SPOČÍTAT JIŽ UMÍŠ

0 1 2 3 4 5



7. ročník
me čist a psát - 68

NAPIŠ O JEDNOM ZVÍŘÁTKU ZE ZOO:

NÁZEV:

CO JÍ:

KDE ŽIJE:



Napiš o jednom zvířeti ze zoo.

procvičovací kód: 561 068