

23. LEDNA



1. TŘÍDA

23.1.

ČTENÍ - LIST - ŘÁDEK 18-20

PSANÍ - STR. 3 ●

	1	2	3	4	5	6	7
1	LES	DŮM	BEZ	LUK	KAM	PÁN	SEM
2	ZEM	MYL	KUS	MÁJ	NÁS	MOC	CÍL
3	NOS	ČÁP	HÁK	TOČ	LED	NŮŽ	MECH
4	TEN	SAD	DÁL	BÁL	TYČ	BÁC	PES
5	PEC	SŮL	DUB	VES	TAM	LEV	SEN
6	les	dům	bez	luk	kam	pán	sem
7	zem	myl	kus	máj	nás	moc	cíl
8	nos	čáp	hák	toč	led	nůž	mech
9	ten	sad	dál	bál	tyč	bác	pes
10	pec	sůl	dub	ves	tam	lev	sen

	1	2	3	4	5	6	7
11	LEN	LAK	MÁŠ	VÁS	MÍČ	PÁS	ROK
12	VÍC	KŮL	FÍK	ŘÁD	DECH	TAK	LES
13	RAK	ŠÍP	RÝČ	JAK	SUK	ČICH	MED
14	HAD	BÝK	LEČ	GÓL	DAŇ	ČÁP	ŽÁR
15	HŮL	MÍR	NEŽ	LŮJ	VĚŽ	SÍŇ	ŘEŽ
16	len	lak	máš	vás	míč	pás	rok
17	víc	kůl	fík	řád	dech	tak	les
18	rak	šíp	rýč	jak	suk	čich	med
19	had	býk	leč	gól	daň	čáp	žár
20	hůl	mír	než	lůj	věž	síň	řež

HYBRIDNÍ PRACOVNÍ UČEBNICE

UŽ ČTEME A PÍŠEME SAMI

1

2. DÍL

ČESKÝ JAZYK
GENETICKÁ METODA



FRAUS

Už čteme a píšeme sami - 14

Malá
čítanka

V ŘÍŠI POHÁDEK

procvičovací kód: 562 014

- Spoj větu se správným obrázkem. Do rámečku zapiš číslo podle toho, jak se pohádka vypráví.

2. Jeník loupá perníček.



4. Děti utíkají domů.



3. Ježibaba strká Mařenku do pece.



1. Jeníček a Mařenka jdou s tatínkem do lesa.



- Která je to pohádka?

O PERNÍKOVÉ CHALOUTCE

V ŘÍŠI POHÁDEK

Malá
čítanka

- Čti pohádku a dopisuj slova, která do ní patří.

František Hrubín

**PERNÍKOVÁ
CHALOUPKA**

„Odkud ten náš holub letí?“

„Letím z lesa, milé děti,
vrkú, vrkú, vrkú.“

„Cos tam viděl, holoubku?“

„Perníkovou
u černého smrku.“

„Viděls také Mařenku?“


„Jakpak by ne,
Viděl jsem ji, s Jeníkem

krmili se

„A když z okna na zahradu

vyrčela baba
nebáli se, holoubku?“„Kdepak! Zamkli chaloupku
na cukrový klíč –

a už byli


**CHALOUPKU**chaloupku – ~~ludku~~**HOLENKU**! ~~holínku~~ – holenku**PERNÍKEM.**~~žluku~~ – perníkem**BRADU**bradu – ~~nos~~**PRYČ**~~doma~~ – pryč

Z knihy Špalíček veršů a pohádek

Hrajeme si - 68

SLOVA • HRY SE SLOVY


ZAHRAJEM SI SE SLOVY,
OBRÁZEK TI NAPOVÍ.
ROZPOČÍTEJ JEDNA, DVĚ,
KTERÉ SLOVO VYHRAJE?



CO PATŘÍ K SOBĚ? VYBARVI POLÍČKO SE SLOVEM.




~~K~~OLO




~~M~~OLO

VLA~~S~~



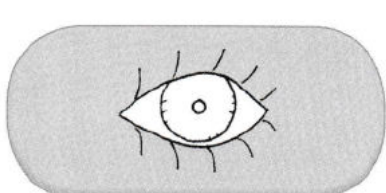
VLA~~K~~

~~P~~USA



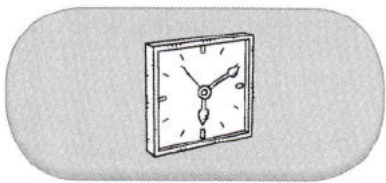
~~H~~USA

OKO~~|~~



OKNO~~N~~

~~N~~OVINY



~~H~~ODINY

Hrajeme si - 69

VYMYSLI PODOBNÉ HÁDANKY.

KOLENO

POLENO

KLÍČ^v

KLÍN

HAD

HLAD


TIP PRO RODIČE: Říkejte dítěti podobné dvojice slov. Vysvětlí vám rozdíl ve významu obou slov, případně slova použije ve větách.

procvičovací kód: 637 069

1. Nakresli podobné hádanky pro spolužáky.
2. Vysvětlí rozdíl mezi jednotlivými slovy. Např.: noviny a hodiny/...
3. Najdi slova, která označují dopravní prostředky.
4. Znáš jiné dopravní prostředky?
5. Kterými dopravními prostředky cestuješ po vodě/ve vzduchu/po silnicí/...?
6. K čemu slouží hodiny?
7. Které druhy hodin znáš?
8. Vyhlašuj slovo. Děti ukáží, kde je napsané.
9. Najdi slova, kde je O na konci.
10. Na která slova si tleskneš jen jedenkrát?
11. Kde najdeš vlas? Co všechno má okna?
12. Použij slova ve větách.





zkoušíme na A4, postupně skládáme na A6 a
trénujeme písmenko



LIST - písanka 3

Handwriting practice sheet for the word "LIST". The page includes a large dashed box for writing, followed by a row of four cursive "l"s with blue arrows indicating the stroke direction. Below are several rows of practice: a row with a boat icon and a cursive "l", a row with a red swirl icon and a cursive "l", a row with a downward arrow icon and a cursive "t", a row with a downward arrow icon and the word "let" in cursive, a row with the word "let" in cursive, a row with a red swirl icon and the word "lete" in cursive, a row with a cow icon and the word "tele" in cursive, and a final row with a boat icon. The bottom right corner contains the text "e é ě l t 3".

Menší smyčka, větší smyčka, zdařila se mi osmička.



M: STR. 10: 0 1 2 3 4 5 6 7 8 = + -

KONTROLA DŮ:**3**K ČÍSLŮM V PRVNÍM SLOUPCI PŘIČTI 3.
OD ČÍSEL VE DRUHÉM SLOUPCI ODEČTI 2.

3	$3 + 3 = 6$
5	$5 + 3 = 8$
0	$0 + 3 = 3$
1	$1 + 3 = 4$
2	$2 + 3 = 5$

6	$6 - 2 = 4$
7	$7 - 2 = 5$
4	$4 - 2 = 2$
8	$8 - 2 = 6$
2	$2 - 2 = 0$

SAMKO


✗

M: STR. 10: **KONTROLA DÚ:**

6 ZAPIŠ O 1 VÍCE.

1 5 7 4 3 2 6 0

--	--	--	--	--	--	--	--



6 ZAPIŠ O 1 VÍCE.

1 5 7 4 3 2 6 0

2	6	8	5	4	3	7	1
---	---	---	---	---	---	---	---

M: STR. 10:

KONTROLA DÚ:

7 ZAPIŠ O 1 MÉNĚ.


5 8 1 4 2 7 3 6

--	--	--	--	--	--	--	--

7 ZAPIŠ O 1 MÉNĚ.

5 8 1 4 2 7 3 6

4 7 0 3 1 6 2 5



M: STR. 11:

0 1 2 3 4 5 6 7 8

1

DOPLŇ.

$1 + \underline{7} = 8$

$5 + \underline{\quad} = 8$

$4 + \underline{\quad} = 8$

$0 + \underline{\quad} = 8$

$2 + \underline{\quad} = 8$

$6 + \underline{\quad} = 8$

$8 + \underline{\quad} = 8$

$6 + \underline{\quad} = 8$

$3 + \underline{\quad} = 8$

$7 + \underline{\quad} = 8$

$1 + \underline{\quad} = 7$

$2 + \underline{\quad} = 4$

$4 + \underline{\quad} = 7$

$2 + \underline{\quad} = 6$

$7 + \underline{\quad} = 7$

$3 + \underline{\quad} = 6$

M: STR. 11:

 $4 + 3 = 7$

$4 - 1 = 3$

$5 - 2 = 3$

$8 - 2 = 6$

$6 + 2 = 8$

$5 - 4 = 1$

$2 - 1 = 1$

$3 + 2 = 5$

$2 - 0 = 2$

$4 + 1 = 5$

$7 - 2 = 5$

$1 + 4 = 5$

$4 + 0 = 4$

$6 - 2 = 4$

$1 - 0 = 1$

$7 + 1 = 8$

$0 + 0 = 0$

$3 - 1 = 2$ 

M: STR. 11:

2

VYŘEŠ SLOVNÍ ÚLOHU.



Hanka má 8 sponek do vlasů. Aničce dala 2 sponky.

Kolik sponek jí zbylo?

$$8 - 2 = 6$$

HANCE ZBYLO 6 SPONEK.



M: STR. 11:

0 1 2 3 4 5 6 7 8

3 SČÍTEJ. DOMEČKY SE STEJNÝM VÝSLEDKEM PAK VYBARVI STEJNOU BARVOU.

The houses and their numbers are as follows:

- Row 1: (3, 2, 1) - red, checkmark; (8, 5, 3) - green, checkmark; (2, 2, 3); (4, 4, 3); (7, 7, 0)
- Row 2: (1, 1, 4); (1, 1, 1); (8, 7, 1) - green, checkmark; (0, 0, 0); (3, 3, 0)
- Row 3: (3, 3, 3); (4, 4, 2) - green, checkmark; (6, 6, 2)
- Row 4: (4, 4, 2); (5, 5, 1); (3, 0, 3) - red, checkmark
- Row 5: (1, 1, 2); (5, 5, 1)
- Row 6: (5, 5, 2); (8, 3, 5) - green, checkmark; (8, 0, 8) - green, checkmark

MŮŽEŠ SI VYZKOUŠET, POČÍTALI
JSME SPOLEČNĚ VE TŘÍDĚ

$3 + 4 =$	$7 - 5 =$	$5 - 3 =$
$3 + 3 =$	$2 + 5 =$	$4 + 2 =$
$7 - 2 =$	$5 + 2 =$	$7 - 0 =$
$6 - 5 =$	$1 + 5 =$	$6 - 3 =$

$3 - 2 =$	$5 - 2 =$	$4 + 0 =$
$7 - 6 =$	$6 - 4 =$	$5 - 4 =$
$2 + 2 =$	$7 - 4 =$	$5 + 1 =$
$3 - 3 =$	$0 + 1 =$	$0 + 0 =$