

21. ÚNORA



1. TŘÍDA

21.2.

ČTENÍ

OPRAVY V SEŠITECH

**list**

	<b>1</b>	<b>2</b>	<b>3</b>	<b>4</b>	<b>5</b>	<b>6</b>
<b>1</b>	jáma	lije	sama	milá	lípa	dolů
<b>2</b>	moje	myje	nula	sype	lesy	mezi
<b>3</b>	nejí	máte	lítá	domů	padá	celá
<b>4</b>	jede	pole	vosa	malá	myši	taky
<b>5</b>	lano	rýma	dary	volá	koza	nové
<b>6</b>	veze	leze	zelí	víno	sova	leží
<b>7</b>	kope	zima	mají	také	sýry	lyže
<b>8</b>	káva	šaty	jako	dolů	šumí	bílá
<b>9</b>	nohy	husa	ráda	leze	mísa	žáci
<b>10</b>	ruce	píše	zase	roky	léto	fíky



čtení s porozuměním

## KONTROLA



Letadlo má tmavě modrá křídla.

Zbytek letadla je světle modrý.


Mraky vybarvi také světle modře.

Nad letadlem namaluj svítící sluníčko.


Pod letadlem namaluj tři zelené hory a modré moře

# M - pr.s. 20

**1** VYBARVI JEN TROJÚHELNÍKY.



**2** KAŽDOU SKUPINU TVARŮ VYBARVI JINOU BARVOU.



**3** SPOČÍTEJ A ZAPIŠ, KOLIK JE:

trojúhelníků \_\_\_\_ čtverců \_\_\_\_  
obdélníků \_\_\_\_ kruhů \_\_\_\_

trojúhelníků \_\_\_\_ čtverců \_\_\_\_  
obdélníků \_\_\_\_ kruhů \_\_\_\_

**4** VYBARVI POLOVINU KAŽDÉHO GEOMETRICKÉHO ÚTVARU.



Najdi čísla schovaná ve slovech a zapiš je číslicí do rámečku. Potom čísla seřaď podle velikosti od nejmenšího.

SEDMIKRÁSKA

POSMÍVÁ SE

ODVAHA

OBJEDNAT

Škrtni vždy jedno číslo, které do řady nepatří.

Do prázdného okénka napiš správné řešení.

1	2	3	<del>2</del>	5	4
---	---	---	--------------	---	---


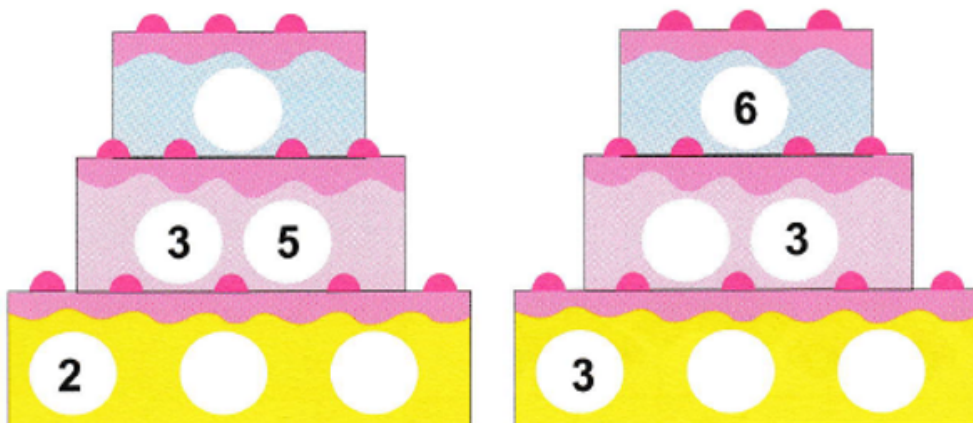
0	2	4	6	<del>9</del>	8
---	---	---	---	--------------	---

2	3	4	5	<del>8</del>	7	6
---	---	---	---	--------------	---	---

9	8	7	6	5	<del>3</del>	4
---	---	---	---	---	--------------	---

# ŠK. SEŠIT:

Doplň čísla do dortů tak, aby součet dvou spodních čísel byl v kroužku nad nimi.



A PAK SE TO STALO ...