


20. ÚNORA



1. TŘÍDA

20.2.

ČTENÍ

ČJ - D

DENÍK

DŮ:
20. ÚNORA

Přepiš otázky a odpověz (ano, ne):

Má tele notu? Alan mele maso? Nosí Ota tuleně?

2
.
|
.

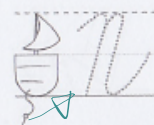

list

	1	2	3	4	5	6
1	jáma	lije	sama	milá	lípa	dolů
2	moje	myje	nula	sype	lesy	mezi
3	nejí	máte	lítá	domů	padá	celá
4	jede	pole	vosa	malá	myši	taky
5	lano	rýma	dary	volá	koza	nové
6	veze	leze	zelí	víno	sova	leží
7	kope	zima	mají	také	sýry	lyže
8	káva	šaty	jako	dolů	šumí	bílá
9	nohy	husa	ráda	leze	mísa	žáci
10	ruce	píše	zase	roky	léto	fíky


W



písanka 18



N



N



Nela




Nasaja

Nemo Nemo

Nada

Naše Nela nese misu.

písanka 19



pes ~~pes~~ ~~pes~~

lopi

lípa ~~lipa~~ ~~lipa~~

pupen

Vša má psa Aslu.

čtení s porozuměním

PRAVDA X LEŽ

U každého obrázku najdi správnou větu a vybarvi ji.
Obrázky vybarvi.

1.



Jirka maluje velký obraz.

2.

Jirka si píše tajný deník.

3.



Amálka kreslí obrázek.

Amálka obléká panenku.

4.



Bety vysává koberec.

Bety vysává listí.

5.



Karolína má jablko.


Karolína si umývá ruce.





Robin staví hrad z kostek.

Robin slaví narozeniny.

čtení s porozuměním



Letadlo má tmavě modrá křídla.
Zbytek letadla je světle modrý.
Mraky vybarvi také světle modře.
Nad letadlem namaluj svítící sluníčko.
Pod letadlem namaluj tři zelené hory a modré moře.



Ilustrovala Sylva Francová

Ivona Březinová

Q je O s ocáskem

M - pr.s. 19

1 VYŘEŠ SLOVNÍ ÚLOHU.

Na polici leží  a  .

 Kolik klobouků je na polici?

$2 + 7 = 9$
JE TAM 9 KLOBOUKŮ.

2 VYŘEŠ SLOVNÍ ÚLOHU.

Kočka Mína má 3 černá a 2 šedá koťata.

Kolik koťat má?



$3 + 2 = 5$
KOŤAT MÁ 5.



3 OPIŠ A VYPOČÍTEJ.

$4 + 4$ $7 - 6$ $10 - 8$ $8 - 7$ $1 + 9$ $8 - 3$
 $3 + 5$ $5 - 3$ $4 + 3$ $10 - 6$ $8 - 7$ $9 - 1$
 $2 + 4$ $10 - 3$ $6 + 1$ $7 - 6$ $2 + 2$ $10 + 0$
 $8 + 1$ $10 - 2$ $5 - 4$ $10 - 2$ $5 + 5$ $9 + 1$
 $6 + 4$ $9 - 4$ $3 + 3$ $9 - 6$ $1 + 8$ $7 - 2$

4 POČÍTEJ SPRÁVNÝM SMĚREM A DOPLŇ ŘADY ČÍSEL.



0	→ 1	2
5	4	← 3
6	→ 7	8

		2
5	→	7
		←

7	→	
↑		5
		←
		1
		↑

5 + 1 = 6

9 + 1

10 - 1

9 - 2

10 - 2

1 + 2

5 - 4

3 - 1

4 + 2

10 - 0

7 + 1

5 - 2

6 + 4

4 + 0

7 - 2

10 - 5

8 + 1

0 + 0

6 - 1

4 - 4

7 + 2

3 + 3

5 - 1

1 + 0

9 + 1

6 + 0

10 - 9

4 - 3

8 + 2


7 + 3

10 - 5


2 + 8

M - pr.s. 20

1 VYBARVI JEN TROJÚHELNÍKY.



2 KAŽDOU SKUPINU TVARŮ VYBARVI JINOU BARVOU.



3 SPOČÍTEJ A ZAPIŠ, KOLIK JE:

trojúhelníků 7 čtverců 5
 obdélníků 5 kruhů 5

trojúhelníků ____ čtverců ____
 obdélníků ____ kruhů ____

4 VYBARVI POLOVINU KAŽDÉHO GEOMETRICKÉHO ÚTVARU.

