


18. ŘÍJNA



písmeno A, Á, E, É, I, Í, Y, Ý, O, Ó, U, Ú, Ů,

M, T, L, J, N, S, K, V

1. TŘÍDA



Začínáme číst a psát - 6, 7

ALÍK

1.A

ALENA

DAVID

EVA

FILIP

GÁBINA

KAROLÍNA

LUCKA

MARTINA

NELA

ŠÁRA

ŠIMON

TOMÁŠ

URŠULA

BÁRA

CYRIL

ČENDA

HUNG

CHRUDOŠ

IVANA

JIRKA

OTA

PEPA

RADEK

ŘEHOŘ

VÍTEK

YVETA

ZUZANA

ŽANETA

CD 2 - Co slyšíš na začátku?





Převládáme čtení

V POLI JE LÍPA. U LÍPY JE PES. LÍTÁ PO POLI SEM
A TAM. POTOM SE VÁLÍ. VOJTA JE U TETY. U
TETY JE I EVA. TETA MÁ PSA, TELE A OSLA.
TETA VOLÁ: VÍTÁM VÁS!

procvičujeme čtení

U LESA LÉTÁ MOTÝL.

U POLE JE MALÝ PES.

TELE SE PASE U LÍPY.

MY JÍME MASO.

PAVEL JÍ U TETY.

OSEL MÁ SÍLU.


JE TU TEPLA.

VOJTA JÍ JELITO.
TOPOL.


PEPA SEJE JETEL.
MAPU.

EVA SYPE MÍSU.
SŮL.

ÁLA LEPÍ
SOLÍ MASO.



Zobej zrní, kuřátko,
ať vyrosteš zakrátko.



$$\begin{array}{r} 2 > 1 \\ \hline 2 < 4 \\ \hline 4 > 1 \\ \hline 3 > 2 \\ \hline \end{array}$$

$$\begin{array}{r} 5 > 2 \\ \hline 4 < 5 \\ \hline 5 = 5 \\ \hline 4 > 2 \\ \hline \end{array}$$

$$\begin{array}{r} 1 < 5 \\ \hline 5 > 3 \\ \hline 3 < 4 \\ \hline 2 < 5 \\ \hline \end{array}$$

Matematika: str. 26:

1

POROVNEJ A ZAPIŠ.

			
$5 \square 4$	$3 \square 3$	$3 \square 5$	$4 \square 4$


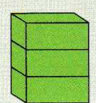




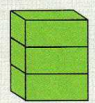

2

PŘEČTI A NAKRESLI.

$5 > 4$	$3 < 5$	$2 < 4$	$3 > 1$	$5 > 3$
$1 < 4$	$5 > 2$	$5 > 0$	$0 < 4$	$1 < 2$

3

POROVNEJ A ZAPIŠ.

							
$5 > 3$	$2 < 4$						
$3 < 5$	$4 > 2$						

Matematika: str. 26:

4 ZAPIŠ POROVNÁVÁNÍ PODLE OBRÁZKŮ.

< , > , =

Ola nese  a Jula .

2 > 1

Táta myje  a .

Na míse je  a .

5 DOPLŇ.

5 >

2 <

0 <

>

2 =

4 >















3 >

= 4

Matematika: str. 27:

1












KTERÁ ZVÍŘÁTKA A ROSTLINY POZNÁŠ? SPOČÍTEJ JE, ZAKRESLI TEČKAMI A ZAPIŠ.

		<input type="checkbox"/>
		<input type="checkbox"/>
		<input type="checkbox"/>
		<input type="checkbox"/>
		<input type="checkbox"/>
		<input type="checkbox"/>
		<input type="checkbox"/>



2

POROVNEJ POČTY.

	<input type="checkbox"/>		A				A	
	<input type="checkbox"/>		A				A	